

# "Kennst du Chur?" : Chur, Stadt im Passland

Autor(en): [s.n.]

Objektyp: **Article**

Zeitschrift: **Bündner Schulblatt = Bollettino scolastico grigione = Fegl  
scolastic grischun**

Band (Jahr): **38 (1978)**

Heft 5

PDF erstellt am: **11.07.2024**

Persistenter Link: <https://doi.org/10.5169/seals-356587>

## **Nutzungsbedingungen**

Die ETH-Bibliothek ist Anbieterin der digitalisierten Zeitschriften. Sie besitzt keine Urheberrechte an den Inhalten der Zeitschriften. Die Rechte liegen in der Regel bei den Herausgebern.

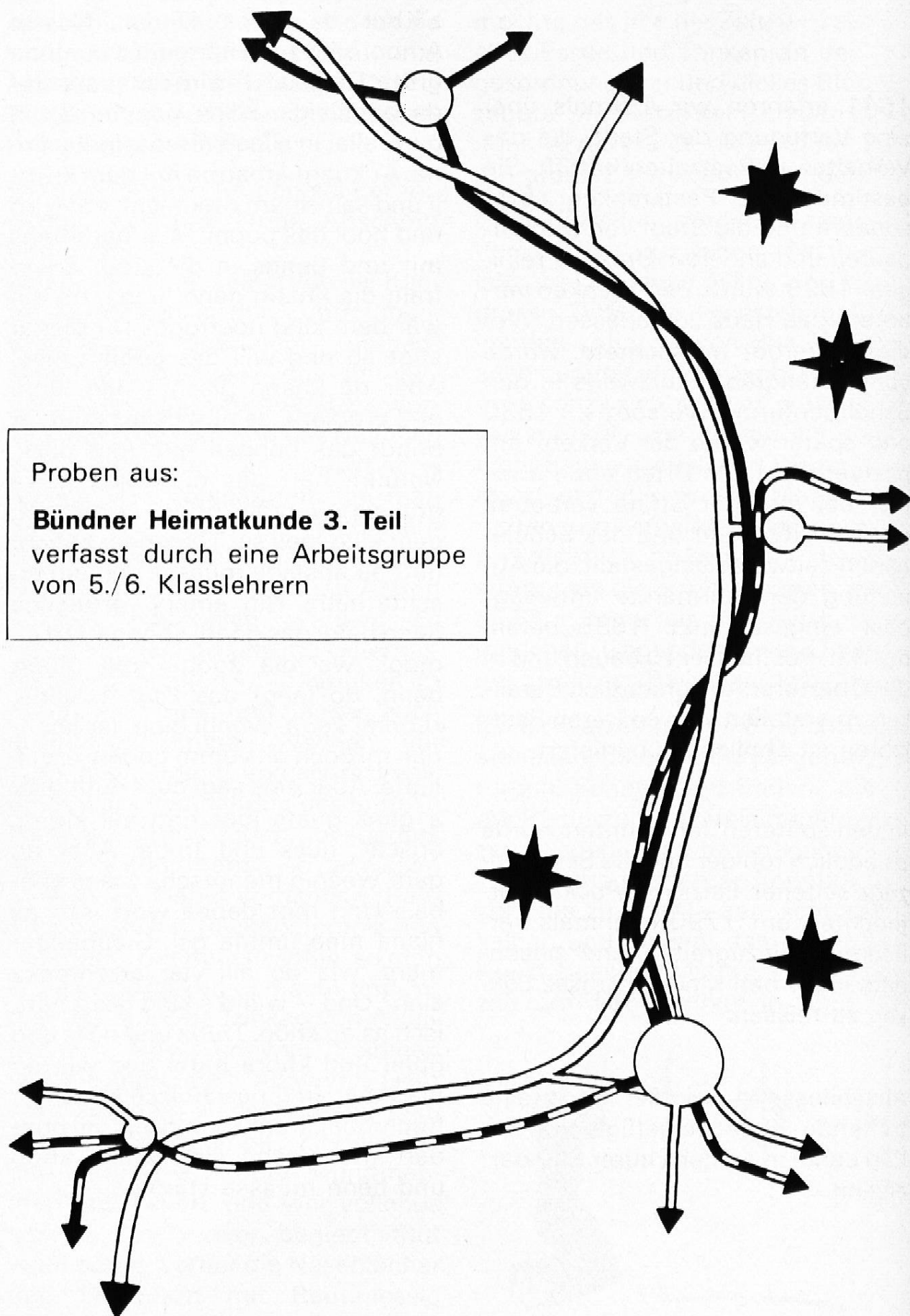
Die auf der Plattform e-periodica veröffentlichten Dokumente stehen für nicht-kommerzielle Zwecke in Lehre und Forschung sowie für die private Nutzung frei zur Verfügung. Einzelne Dateien oder Ausdrucke aus diesem Angebot können zusammen mit diesen Nutzungsbedingungen und den korrekten Herkunftsbezeichnungen weitergegeben werden.

Das Veröffentlichen von Bildern in Print- und Online-Publikationen ist nur mit vorheriger Genehmigung der Rechteinhaber erlaubt. Die systematische Speicherung von Teilen des elektronischen Angebots auf anderen Servern bedarf ebenfalls des schriftlichen Einverständnisses der Rechteinhaber.

## **Haftungsausschluss**

Alle Angaben erfolgen ohne Gewähr für Vollständigkeit oder Richtigkeit. Es wird keine Haftung übernommen für Schäden durch die Verwendung von Informationen aus diesem Online-Angebot oder durch das Fehlen von Informationen. Dies gilt auch für Inhalte Dritter, die über dieses Angebot zugänglich sind.

# Chur, Stadt im Passland



## Arbeitsblatt «Chur, Stadt im Passland»

1. Schreibe die unten angeführten Ortsnamen auf farbiges Papier, schneide sie einzeln aus und ergänze damit die Verkehrskarte!
2. Stelle die Verkehrskarte als Bodenkarte dar!
3. Präge dir die Karte ein, zeichne und beschrifte sie aus dem Gedächtnis!
4. Suche aus einem Fahrplan die Anzahl der Züge und Postautos, die täglich in Chur eintreffen und Chur verlassen!
5. Zeichne und beschreibe den Weg von deinem Wohnort nach Chur!

Ortsnamen für die Verkehrskarte:

nach Arosa

Calanda

Chur

nach Davos

Falknis

nach Flims

Hochwang

nach Ilanz/Disentis

Landquart

nach Lenzerheide/Julier

Reichenau

nach St. Gallen

Sargans

nach Thusis/Engadin



nach Thusis/San Bernardino

Vilan


nach Zürich

## Arbeitsblatt «Chur – Stadtteile»

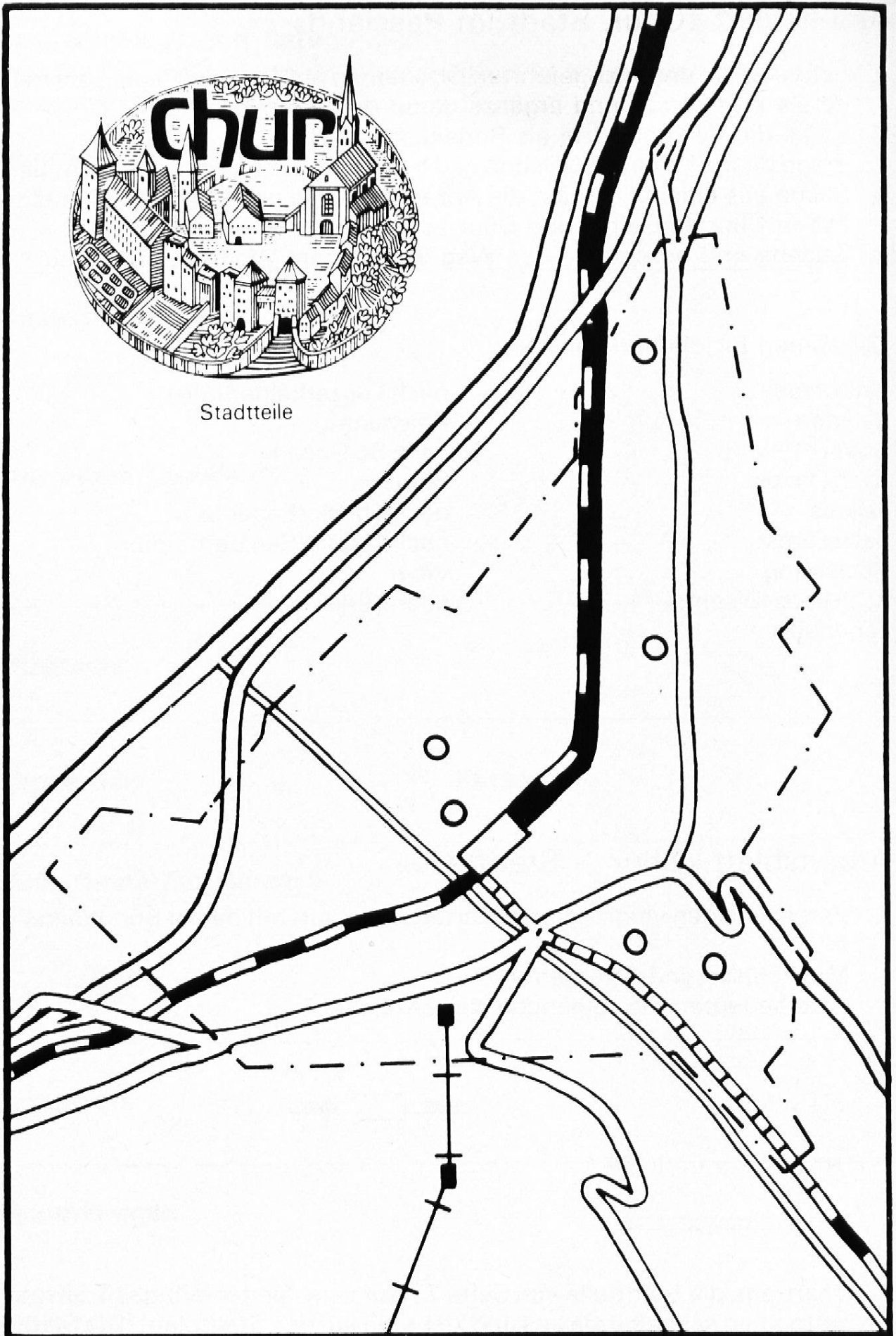
1. Vergleiche den vergrösserten Kartenausschnitt mit deiner Bündnerkarte!  
Male Flüsse und Strassen aus!
2. Was bedeuten die folgenden Kartenzeichen?



3. Übertrage die Stadtteile von Seite 27 auf verschiedenfarbiges Transparentpapier, schneide sie aus und klebe sie auf den Stadtplan! (Die Stadtgrenze ist gestrichelt eingezeichnet)
4. Vergrössere das Signet von Chur und gestalte damit ein Titelblatt!

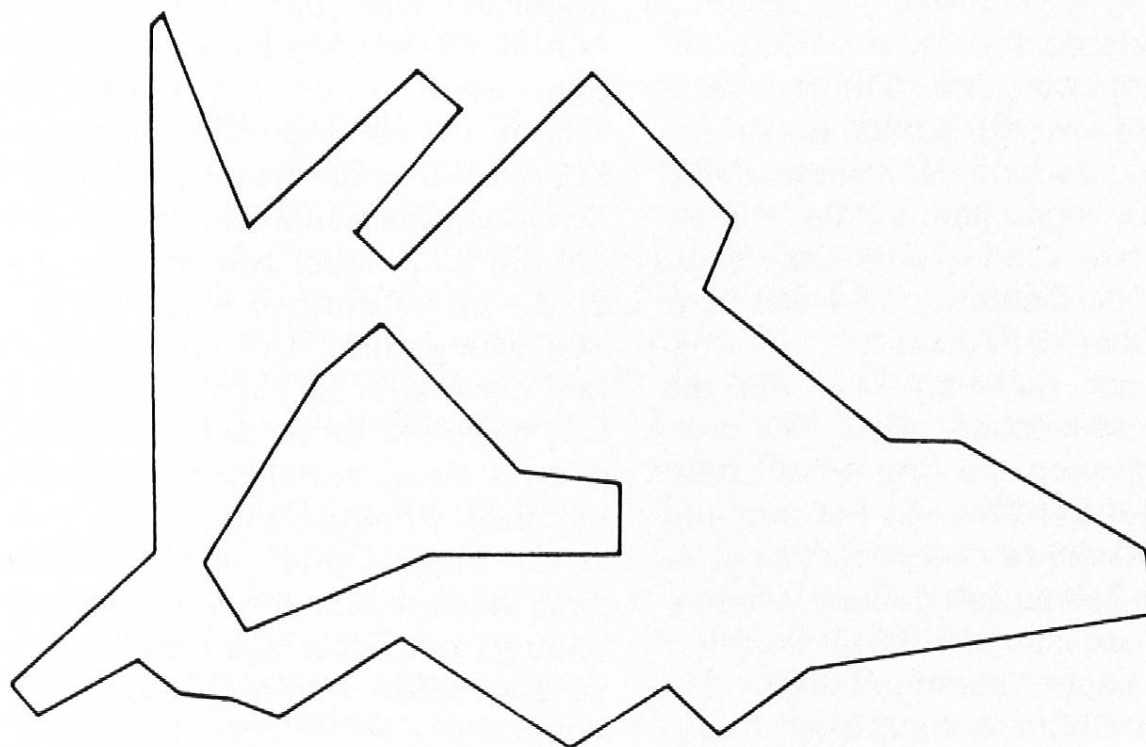


Stadtteile

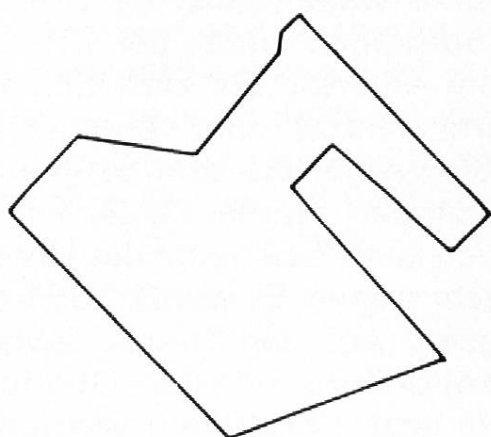


# Chur – Stadtteile (zu Seite 314)

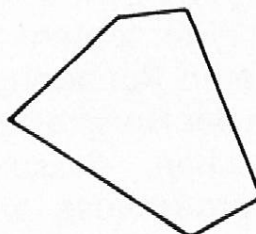
Vorwiegend Wohngebiet



Vorwiegend Industriegebiet



Altstadt



City

