

Wettbewerb : Blick auf die Heimat

Objektyp: **Group**

Zeitschrift: **Pestalozzi-Kalender**

Band (Jahr): **79 (1986)**

PDF erstellt am: **12.07.2024**

Nutzungsbedingungen

Die ETH-Bibliothek ist Anbieterin der digitalisierten Zeitschriften. Sie besitzt keine Urheberrechte an den Inhalten der Zeitschriften. Die Rechte liegen in der Regel bei den Herausgebern.

Die auf der Plattform e-periodica veröffentlichten Dokumente stehen für nicht-kommerzielle Zwecke in Lehre und Forschung sowie für die private Nutzung frei zur Verfügung. Einzelne Dateien oder Ausdrucke aus diesem Angebot können zusammen mit diesen Nutzungsbedingungen und den korrekten Herkunftsbezeichnungen weitergegeben werden.

Das Veröffentlichen von Bildern in Print- und Online-Publikationen ist nur mit vorheriger Genehmigung der Rechteinhaber erlaubt. Die systematische Speicherung von Teilen des elektronischen Angebots auf anderen Servern bedarf ebenfalls des schriftlichen Einverständnisses der Rechteinhaber.

Haftungsausschluss

Alle Angaben erfolgen ohne Gewähr für Vollständigkeit oder Richtigkeit. Es wird keine Haftung übernommen für Schäden durch die Verwendung von Informationen aus diesem Online-Angebot oder durch das Fehlen von Informationen. Dies gilt auch für Inhalte Dritter, die über dieses Angebot zugänglich sind.

Wettbewerb

Blick auf die Heimat

Die Schweiz ist schön! Das zeigen unsere Luftaufnahmen von Burgen, Städten, Bergen und Flüssen unter dem Titel «Blick auf die Heimat». Damit ist ein Wettbewerb verbunden. Es gilt, die vorgestellten Orte zu erkennen und zu benennen. Das ist doch leicht! Oder? Was ist zu tun? Immer **eine** der drei **pro Foto** vorgeschlagenen Bezeichnungen (**a, b, c**) ist die richtige. Wer findet sie? Der ausgewählte Buchstabe ist hinter der entsprechenden Foto-Nummer auf dem Beteiligungstalon auf Seite 109 im Schatzkästlein 1986 einzutragen. Dann ist der Talon einzusenden. Das ist alles! Beachtet die Preise auf Seite 108 im Schatzkästlein 1986! Wer wollte da nicht mitmachen! Viel Vergnügen beim munteren Erkennenspiel!




Foto 1: Unser Land ist reich an Burgen. Diese hier ist schon durch ihren Namen eng mit unserer Geschichte verbunden. Wie heisst sie?

- a.** Kyburg
- b.** Mörsburg
- c.** Habsburg




Foto 2: Verschiedene unserer Städte liegen am Ende eines Sees. Auch diese hier. Sie heisst?

- a.** Zürich
- b.** Genf
- c.** Luzern



Foto 3: Noch gibt es abgeschiedene Orte der Besinnung in unserem Land. Wie heisst dieser an sich nicht unbekannte Ort?

- a.** Pfäfers
- b.** La Valsainte
- c.** Flüeli-Ranft




Foto 4: Ein kleines verträumtes Städtchen an einem Fluss. Solche gibt es verschiedene. Aber welches ist das hier?

- a. St-Ursanne
- b. Eglisau
- c. Diessenhofen



Foto 5: Bahnen führen zu bekannten Aussichtsbergen hinauf. Von dort ergeben sich wundervolle Ausblicke auf unsere Bergwelt. Wie heisst dieser Aussichtsberg?

- a. Jakobshorn
- b. Pilatus
- c. Schilthorn




Foto 6: Nochmals eine Wehranlage aus alter Zeit. Ein Wasserschloss. Wie heisst es?

- a.** Hallwil
- b.** Bottmingen
- c.** Hagenwil



Foto 7: In den Bergen liegen unsere Stauseen. Einige davon sind recht berühmt. Etwa dieser da. Wie heisst er?

- a.** Marmorera
- b.** Grande Dixence
- c.** Grimsel




Foto 8: Wir blicken auf Basel mit seinem geschäftigen Hafen. Diesmal lautet die Frage aber ganz anders. Welche Stelle nimmt die Rheinstadt Basel, betrachtet man die Einwohnerzahl, innerhalb der Schweizerstädte ein?

Ist es

- a.** die grösste Schweizerstadt?
- b.** die zweitgrösste Schweizerstadt?
- c.** die drittgrösste Schweizerstadt?




Foto 9: Es gibt in der Schweiz nur ein einziges solches Inselkloster, mitten in einem Fluss gelegen. Es ist heute eine Pflegeanstalt. Wie aber heisst der Fluss, in dem die Anlage steht?

- a.** Rhone
- b.** Aare
- c.** Rhein



Foto 10: Pässstrassen ziehen als uralte Verbindungswege über die Alpen. Zu welchem Pass gehören diese vielen Windungen?

- a. Grimsel
- b. Gotthard
- c. Flüela



Foto 11: Zwei Flüsse fliessen zusammen. Das ergibt interessante Luftaufnahmen. Wie heissen die beiden Flüsse hier?

- a. Vorderrhein—Hinterrhein
- b. Ticino—Moësa
- c. Rhein—Aare