

Zum Zeitvertrieb im Wachtlokal und im Kantonnement

Objektyp: **Group**

Zeitschrift: **Schweizer Soldat : Monatszeitschrift für Armee und Kader mit FHD-Zeitung**

Band (Jahr): **15 (1939-1940)**

Heft 12: **a**

PDF erstellt am: **12.07.2024**

Nutzungsbedingungen

Die ETH-Bibliothek ist Anbieterin der digitalisierten Zeitschriften. Sie besitzt keine Urheberrechte an den Inhalten der Zeitschriften. Die Rechte liegen in der Regel bei den Herausgebern.


Die auf der Plattform e-periodica veröffentlichten Dokumente stehen für nicht-kommerzielle Zwecke in Lehre und Forschung sowie für die private Nutzung frei zur Verfügung. Einzelne Dateien oder Ausdrucke aus diesem Angebot können zusammen mit diesen Nutzungsbedingungen und den korrekten Herkunftsbezeichnungen weitergegeben werden.

Das Veröffentlichen von Bildern in Print- und Online-Publikationen ist nur mit vorheriger Genehmigung der Rechteinhaber erlaubt. Die systematische Speicherung von Teilen des elektronischen Angebots auf anderen Servern bedarf ebenfalls des schriftlichen Einverständnisses der Rechteinhaber.

Haftungsausschluss

Alle Angaben erfolgen ohne Gewähr für Vollständigkeit oder Richtigkeit. Es wird keine Haftung übernommen für Schäden durch die Verwendung von Informationen aus diesem Online-Angebot oder durch das Fehlen von Informationen. Dies gilt auch für Inhalte Dritter, die über dieses Angebot zugänglich sind.

Zum Zeitvertreib im Wachtlokal und im Kantonnement



Seht ihn an, den armen Mann,
Wie er staunt, weil er's nicht kann.

Er soll doch mit Mut probieren,
Besser ist's als nur studieren.

Wer in seiner freien Zeit
Suchet einen Zeitvertreib,
Solchen Leuten bieten wir
Diese lust'ge Seite hier.


Viele werden's nicht gleich können,
Dieses mag man allen gönnen.
Wie's gemacht wird, sollt ihr sehn,
In acht Tagen wird's hier stehn.

Wer löst diese 10 Bilderrätsel?


1 2 3 4 5 6 7 8 9 10
 Liebe ESLE M ins Ga

Dieses Grundstück mit den Apfelbäumen soll unter vier Söhne verteilt werden, so daß jeder gleich viel Land von gleicher Form und gleich viel Bäume erhält.

Wie wird geteilt?



Eine Zündhölzli-Aufgabe:



Für Anfänger:

Aus diesen 4 Quadraten sind 5 gleiche Quadrate herzustellen.

Die Lösungen der Aufgaben in letzter Nummer

Verkehrspröblem:



Zuerst geht 1 zur Ausweiche.
2 fährt zurück; 3, 4, 5 fahren an 1 vorbei nach A.
1 fährt fort Richtung B.
3, 4, 5 fahren retour Richtung B.
2 geht zur Ausweiche.
3, 4, 5 fahren fort Richtung A, 2 Richtung B.

Die erste Zündhölzli-Aufgabe.



Die Aufgabe für Fortgeschrittene.

1.
 2.
 3.